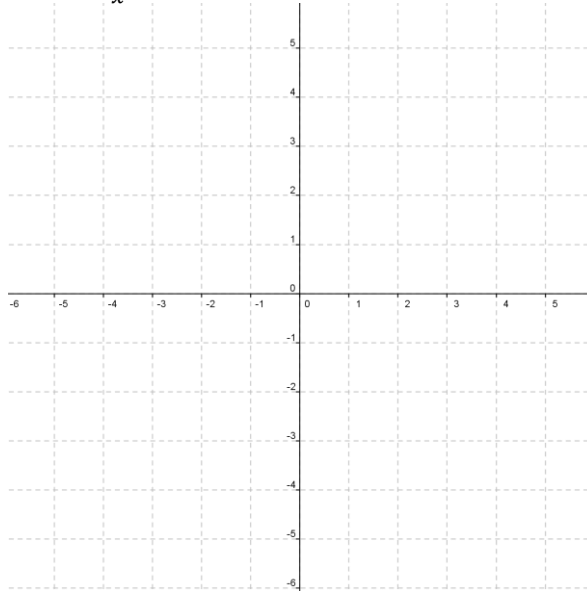


4º CONTROL MATEMÁTICAS 2º ESO

NOMBRE.....CURSO.....

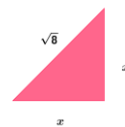
1. Dibuja la hipérbola $y = \frac{-4}{x}$ en la siguiente cuadrícula:



2. Calcula x en cada caso

9

10

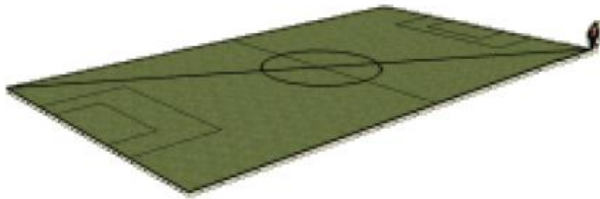


3. Calcula el perímetro y el rodio del siguiente hexágono regular



4.

Un futbolista entrena corriendo la diagonal del terreno de juego de un campo de fútbol, ida y vuelta, 30 veces todos los días. ¿Qué distancia total recorre? El terreno de juego tiene unas medidas de 105×67 m.



5. Calcula el área y el perímetro

